

【313】 4月16日(金) $1/\sqrt{r_0} = 1/\sqrt{r_1} + 1/\sqrt{r_2}$

● $\frac{1}{\sqrt{r_0}} = \frac{1}{\sqrt{r_1}} + \frac{1}{\sqrt{r_2}}$

『さざなみ曲線群の呈示』の最後のPage (P078)で、

$$\frac{1}{\sqrt{r_0}} = \frac{1}{\sqrt{r_1}} + \frac{1}{\sqrt{r_2}}$$

を満たす数学的実体が存在すると僕は述べました。また、それについては後述するつもりであると述べましたね。当主題はこの約束を果たすために設けました。後述予定の議論とも関係します。

何のことはない。下記のことです。それだけ

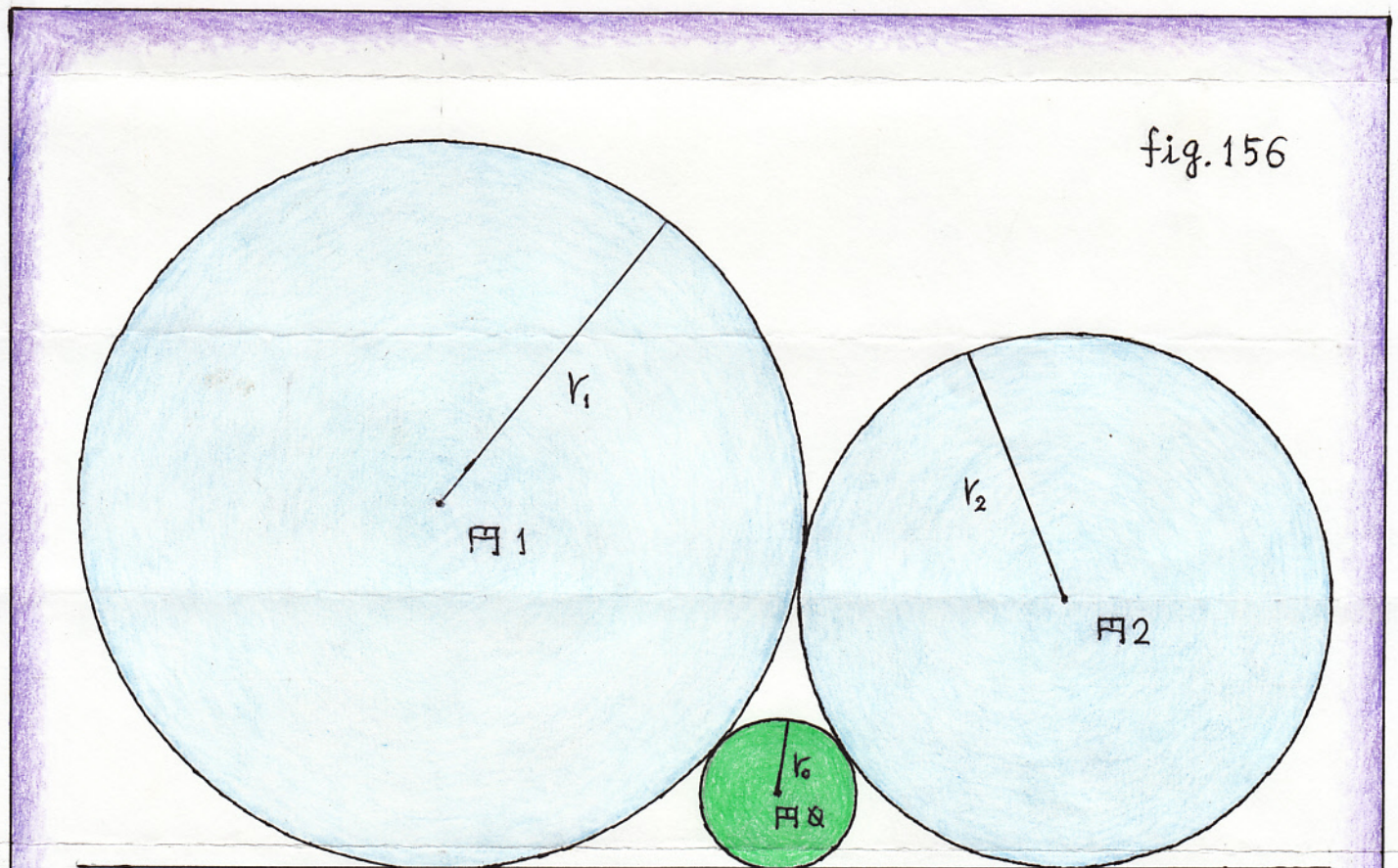


fig.156

上図の関係にある3つの円、円0、円1、円2の半径をそれぞれ、 r_0 、 r_1 、 r_2 とすれば、次式を満たします。

$$\frac{1}{\sqrt{r_0}} = \frac{1}{\sqrt{r_1}} + \frac{1}{\sqrt{r_2}}$$

定理(89)

【P314】 $1/\sqrt{r_0} = 1/\sqrt{r_1} + 1/\sqrt{r_2}$ (続き)

3つの円、円0、円1、円2は、同一平面上の円であり、これらは全て他の2つの円と外接しています。さらに全て、同一平面上の1本の直線と、同じ側で接しています。円0は3つの円の中で最も小さい半径を持つ円を指します。

(89)は貴方なら容易く証明できるでしょう。でも一応証明しましょう。後で、もっと一般化した問題として、少なくとも2通りの証明を行う予定です。初等的な証明をしましょう。幾つかの補助線を引きます。

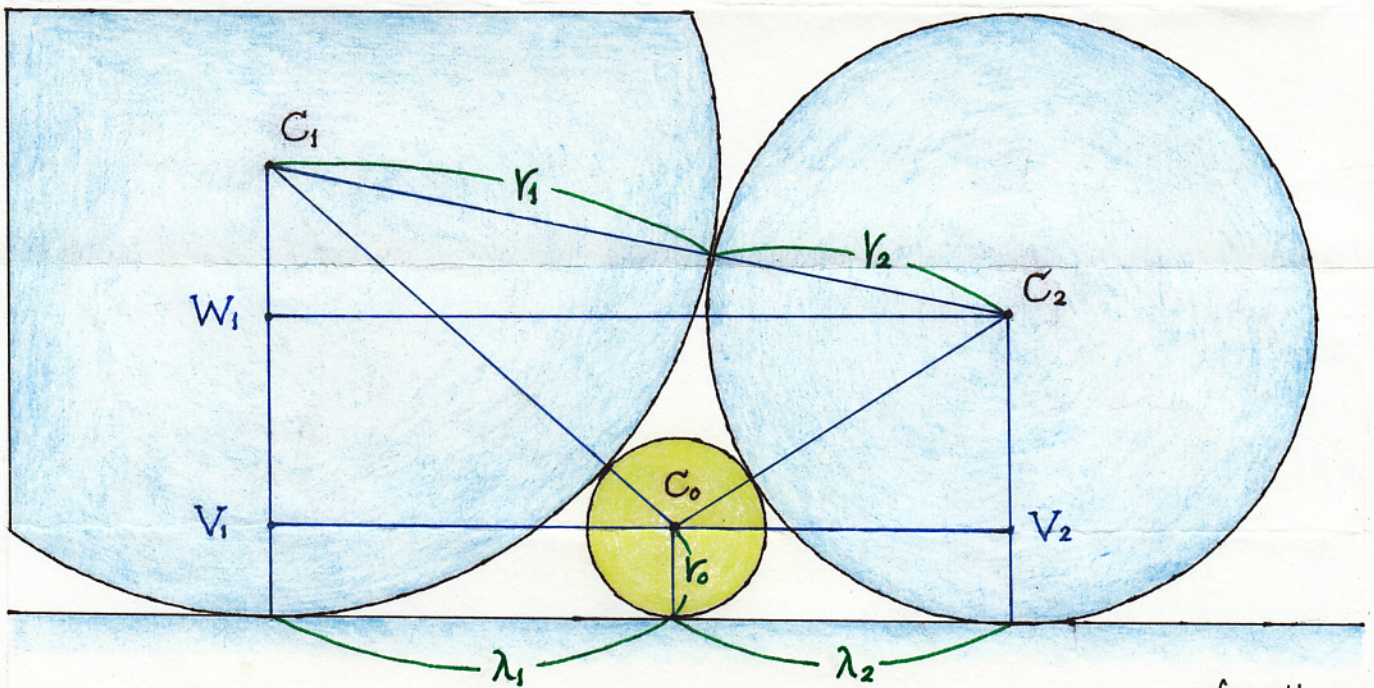


fig.157

Pythagorasの定理が決定的な役目を果たし(Discharge)ます。3つの直角三角形、 $\triangle C_1 W_1 C_2$, $\triangle C_0 V_1 C_1$, $\triangle C_0 V_2 C_2$ に注目すれば、

$$(\lambda_1 + \lambda_2)^2 = (r_1 + r_2)^2 - (r_1 - r_2)^2 = 4r_1 r_2 \quad .1)$$

$$\lambda_1^2 = (r_1 + r_0)^2 - (r_1 - r_0)^2 = 4r_1 r_0 \quad .2)$$

$$\lambda_2^2 = (r_2 + r_0)^2 - (r_2 - r_0)^2 = 4r_2 r_0 \quad .3)$$

(W17)

∴

$$(2\sqrt{r_1 r_0} + 2\sqrt{r_2 r_0})^2 = 4r_1 r_2 \quad (W18)$$

【P315】4月17日(土) $1/\sqrt{r_0} = 1/\sqrt{r_1} + 1/\sqrt{r_2}$ (続き)

(W18) を r_0 に関して解くと、

$$r_0 = \frac{r_1 r_2}{(\sqrt{r_1} + \sqrt{r_2})^2}$$

両辺の逆数をとれば

$$\frac{1}{r_0} = \left(\frac{1}{\sqrt{r_1}} + \frac{1}{\sqrt{r_2}} \right)^2 \quad (\text{W19})$$

これより (89) が得られます。

Q.E.D.

(W19) を変形しよう。右辺を展開すれば

$$\frac{1}{r_0} = \frac{1}{r_1} + \frac{2}{\sqrt{r_1 r_2}} + \frac{1}{r_2}$$

$$\frac{2}{\sqrt{r_1 r_2}} = \frac{1}{r_0} - \frac{1}{r_1} - \frac{1}{r_2}$$

両辺を2乗して、

$$\frac{4}{r_1 r_2} = \frac{1}{r_0^2} + \frac{1}{r_1^2} + \frac{1}{r_2^2} - \frac{2}{r_0 r_1} + \frac{2}{r_1 r_2} - \frac{2}{r_2 r_0}$$

従って、

fig.156 の r_0, r_1, r_2 は次式を満たす。

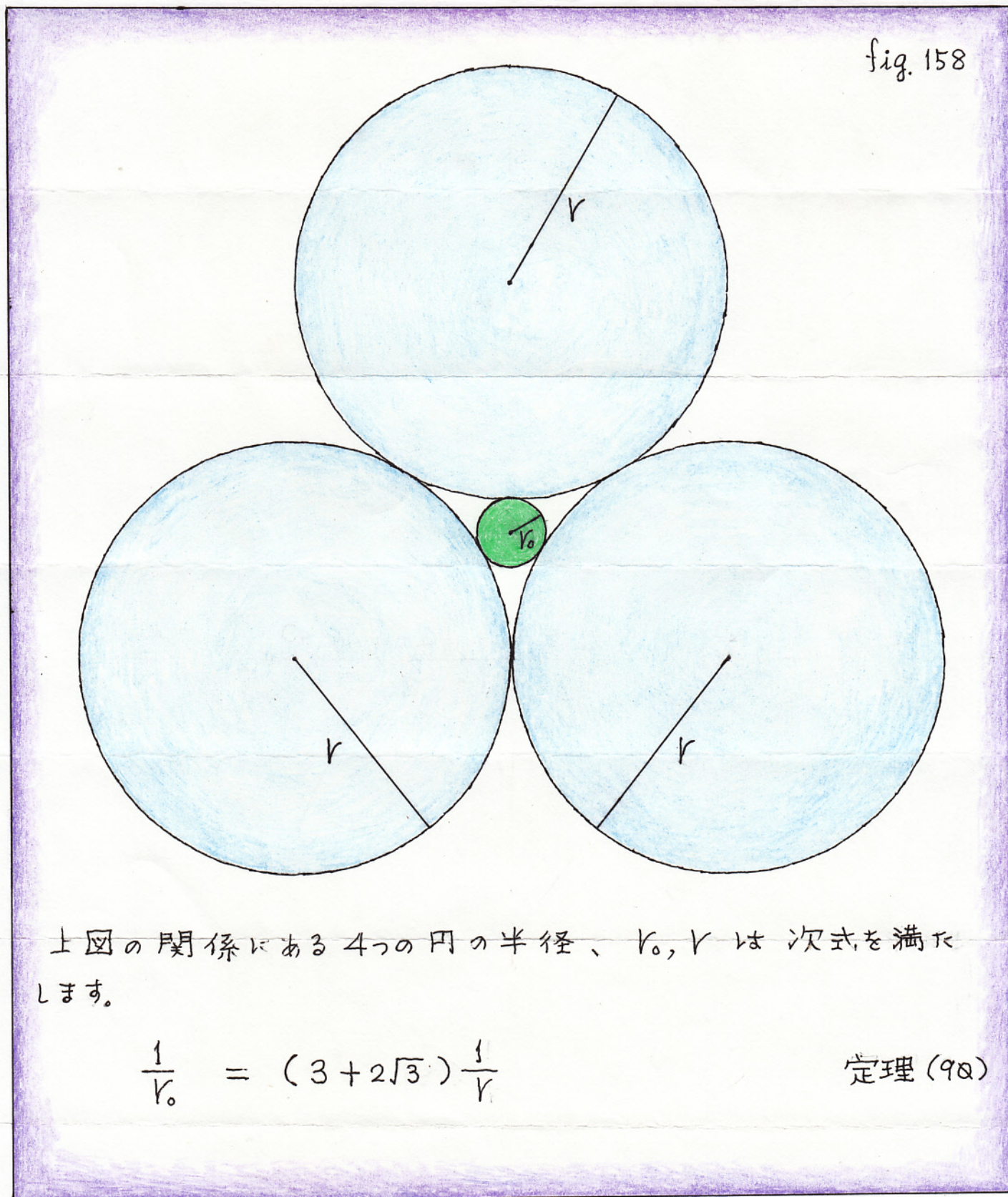
$$\frac{1}{r_0^2} + \frac{1}{r_1^2} + \frac{1}{r_2^2} - \frac{2}{r_0 r_1} - \frac{2}{r_1 r_2} - \frac{2}{r_2 r_0} = 0 \quad \text{定理(89)'}$$

(89) 式を美しい式ですが、多少複雑ですが (89)' 式も綺麗ですね。

何れも (Anyway, After All), r_0, r_1, r_2 に関して対称的です。不思議ですね。

【P316】 $1/\sqrt{r_0} = 1/\sqrt{r_1} + 1/\sqrt{r_2}$ (続き)

fig. 156 は、互いに外接し合う4つの円の特珠な場合だと考えられます。オ4の円は直線、つまりその半径が ∞ の円です。もう1つの特珠な場合を呈示しましょう。下記です。



上図の関係にある4つの円の半径、 r_0, r は次式を満たします。

$$\frac{1}{r_0} = (3 + 2\sqrt{3}) \frac{1}{r}$$

定理(90)

補助線を引いて証明します

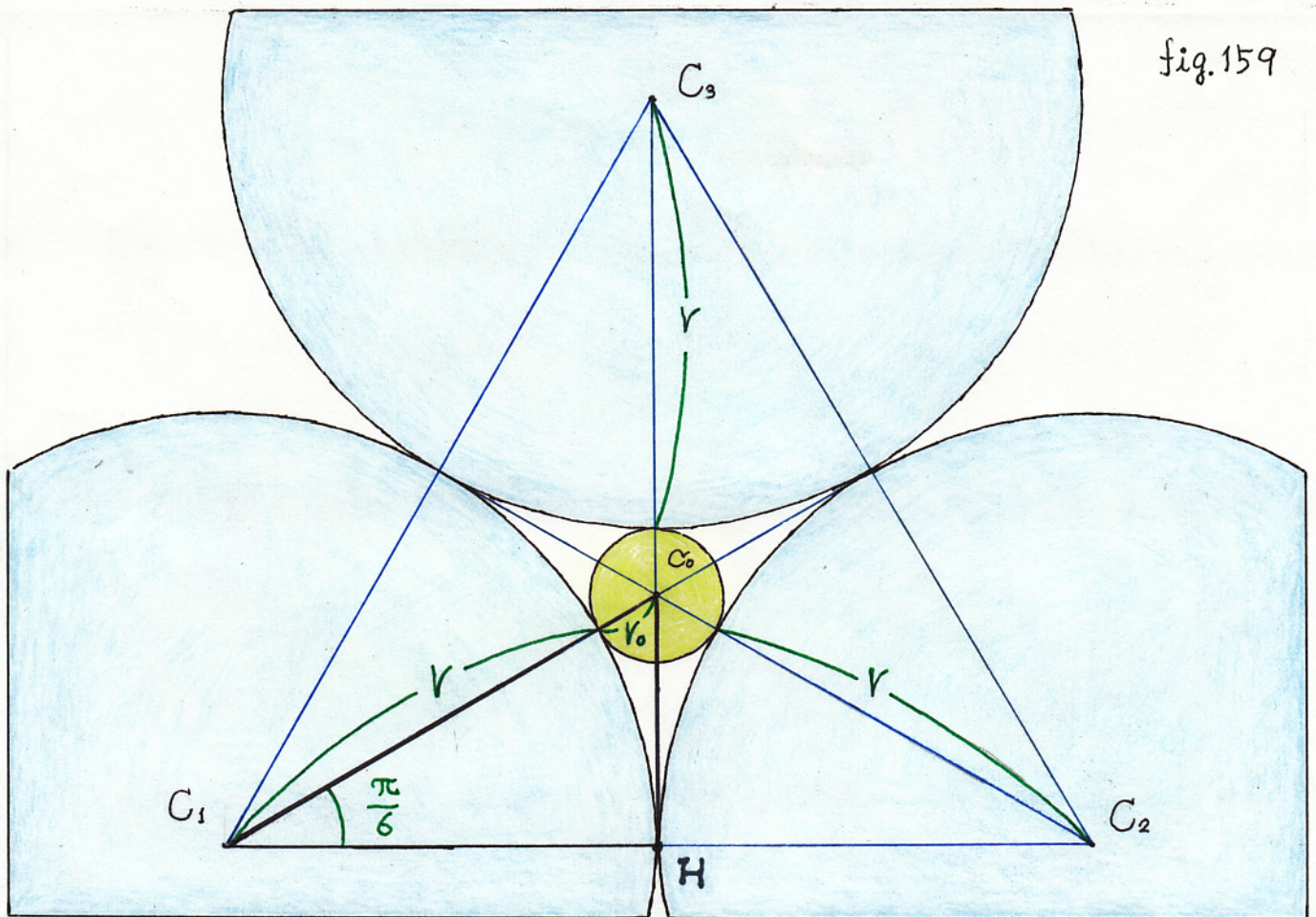


fig.159

$\triangle C_1 C_2 C_3$ は正3角形です。6個の合同な直角3角が見えます。その中
のから一つ、例えば $\triangle C_0 C_1 H$ に注目すると、

$$\frac{r}{r+r_0} = \cos \frac{\pi}{6} = \frac{\sqrt{3}}{2}$$

r_0 について解けば

$$r_0 = \left(\frac{2}{\sqrt{3}} - 1 \right) r$$

逆数をとって

$$\frac{1}{r_0} = \frac{1}{\frac{2}{\sqrt{3}} - 1} \frac{1}{r} = \frac{\sqrt{3}}{2 - \sqrt{3}} \frac{1}{r} = \frac{\sqrt{3}(2 + \sqrt{3})}{(2 - \sqrt{3})(2 + \sqrt{3})} \frac{1}{r}$$

$$= \frac{2\sqrt{3} + 3}{4 - 3} \frac{1}{r} = (3 + 2\sqrt{3}) \frac{1}{r}$$

Q.E.D.

【P318】 4月19日(月) $1/\sqrt{r_0} = 1/\sqrt{r_1} + 1/\sqrt{r_2}$ (続き)

(90) を変形しよう。

$$\frac{2\sqrt{3}}{r} = \frac{1}{r_0} - \frac{3}{r}$$

両辺を2乗して、

$$\frac{12}{r^2} = \frac{1}{r_0^2} - \frac{6}{r_0 r} + \frac{9}{r^2}$$

$$\frac{1}{r_0^2} - \frac{6}{r_0 r} - \frac{3}{r^2} = 0$$

従って、

fig.158の r_0, r は次式を満たす。

$$\begin{aligned} \frac{1}{r_0^2} + \frac{1}{r^2} + \frac{1}{r^2} + \frac{1}{r^2} - \frac{2}{r_0 r} - \frac{2}{r_0 r} - \frac{2}{r_0 r} \\ - \frac{2}{r r} - \frac{2}{r r} - \frac{2}{r r} = 0 \quad \text{定理(90)'} \end{aligned}$$

(89)' と (90)' を良く観察しよう。式内における半径の対称性に注意されたい。一般に下記が成り立つと予想されます。

同一平面上で互いに外接し合う4つの円の半径たちを r_0, r_1, r_2, r_3 とすれば、次式が成り立つ。

$$\begin{aligned} \frac{1}{r_0^2} + \frac{1}{r_1^2} + \frac{1}{r_2^2} + \frac{1}{r_3^2} - \frac{2}{r_0 r_1} - \frac{2}{r_0 r_2} - \frac{2}{r_0 r_3} \\ - \frac{2}{r_1 r_2} - \frac{2}{r_1 r_3} - \frac{2}{r_2 r_3} = 0 \end{aligned}$$

予想(91)

【P319】2021年4月19日(月) 小休止: Penrose Tile (4a3)

● 小休止: Penrose Tile (4a3)

by Roger Penrose Himself




fig. 160